


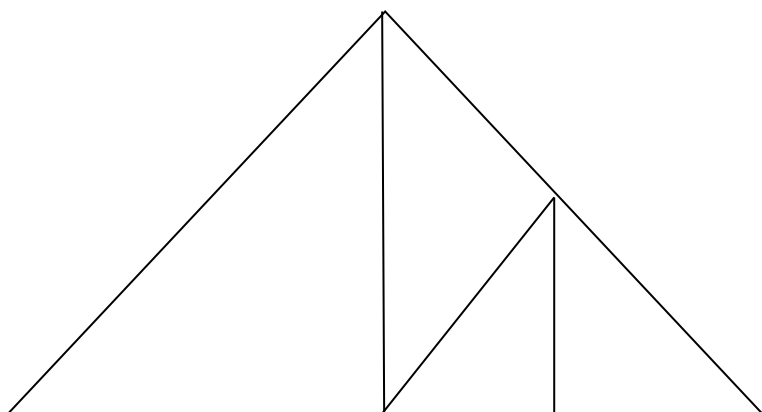
ZESTAW PIĄTY

Policz i podaj odpowiedź: ile na rysunku znajduje się:

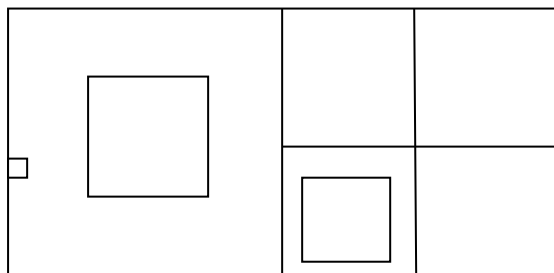
Prostokątów



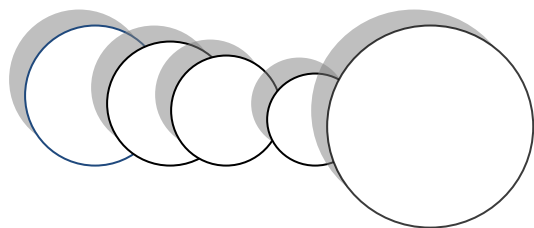
Trójkątów



Kwadratów




Kółek



Zadanie 2

Na prostej zaznaczono punkty A, B, C, D.

Odszukuj powstałe odcinki i policz ile ich jest:



Jestodcinków.

Zadanie 3

Zastanów się, czy zawarte w zdaniach informacje są prawdziwe, zakreślając w rubryce **tak** lub **nie**.

W jednym metrze jest 10 centymetrów.	Tak	Nie
Obwód kwadratu o boku 3cm wynosi 10cm.	Tak	Nie
Łamana składa się z odcinków.	Tak	Nie
Oś symetrii dzieli figurę na dwie takie same części.	Tak	Nie
Obwód figury to suma długości jej boków.	Tak	Nie
Każdy kwadrat jest prostokątem.	tak	Nie